



وزارة التربية  
إدارة الشؤون التعليمية  
مؤابية الامتحانات وشؤون الطلبة



نموذج الإجابة  
المرحلة المتوسطة  
( صعوبات التعلم )  
الدور الثاني

المادة : الاجتماعيات

الصف : السادس  
العام الدراسي

2016 / 2017



السؤال الأول: مكون من ( أ - ب - ج ):

(أ) اختر للمجموعة (أ) ما يناسبها للمجموعة (ب) بوضع الرقم المناسب بين القوسين: ( لكل نقطة درجة )

الرقم	المجموعة ( أ )	الرقم المناسب	المجموعة (ب)
١	يقع حقل برقان النفطي في دولة تسمى	(٣) ص ٩٦	عمان
٢	يقع مقر درع الجزيرة في دولة تسمى	(٤) ص ١٠٥	البحرين
٣	تقع منطقة الفحل الصناعية في دولة تسمى	(١) ص ٩٠	الكويت
٤	الدولة التي ظهرت فيها حضارة دلمون تسمى	(٥) ص ١١٢	الإمارات
٥	أقل دولة في نسبة المواطنين تمثلها دولة تسمى	(٢) ص ١٢٩	السعودية
			قطر

(ب) صنف مايلي كلا حسب موقعه في الجدول : ص ١٣٤

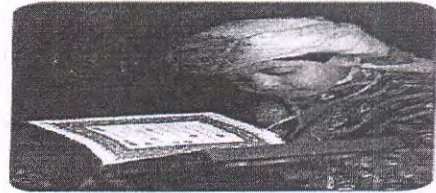
( سيارات وطائرات - براكين - الصناعة - عواصف ترابية - مبيدات حشرية ):

مصادر تلوث طبيعية	مصادر تلوث غير طبيعية
مبيدات حشرية	سيارات وطائرات
عواصف ترابية	لصناعة
براكين	مبيدات حشرية

(ج) : اكتب اسم الرابط المشترك بين دول الخليج العربية أسفل الصور التالية : ص ١١٩

الرابط المشترك ( الدين )

الرابط المشترك العادات





السؤال الثاني يتكون من ( أ - ب ) :- ( لكل نقطة درجة )

( أ ) ظلل الكلمة التي لا تنتمي للمجموعة في المربعات التالية :

١- الصناعات القائمة على النفط في دول الخليج العربية:ص ٩٥

الإسفلت	البتروكيماويات
الغاز	تكرير النفط

٢- أهم مجالات التعاون بين دول مجلس التعاون الخليجي:ص ١٢٩

الثقافي	السياسي
السياحة	الاقتصادي

٣- أنواع التلوث :ص ١٣٣

الكثافة السكانية	التلوث الضوضائي
التلوث الأرضي	التلوث الهوائي

٤- ترتبط دول الخليج العربية بعلاقات تجارية متمثلة ب:ص ٩٩

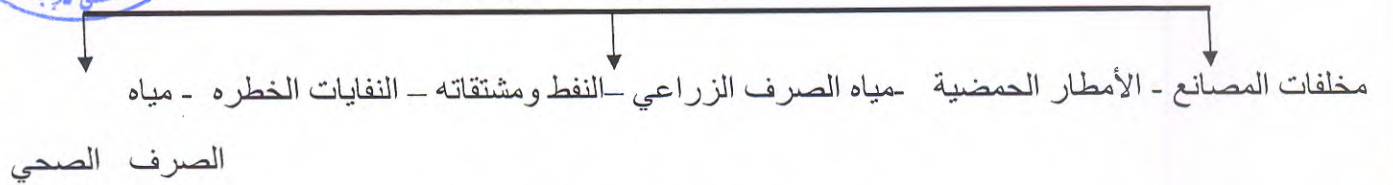
الصادرات	الدخل القومي
الواردات	الترانزيت

٥- من أهم الدول المستوردة للنفط :ص ٩٠

هولندا	الصين
الولايات المتحدة	اليابان

(ب) أكمل المخططات السهمية التالية :

١- أسباب التلوث البحري :ص ١٣٦



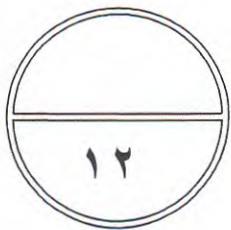
٢- وظائف العمالة المنزلية :ص ١٤٢



٣- مظاهر التعاون بين دول الخليج في المجال الاقتصادي: ص ١٣٠



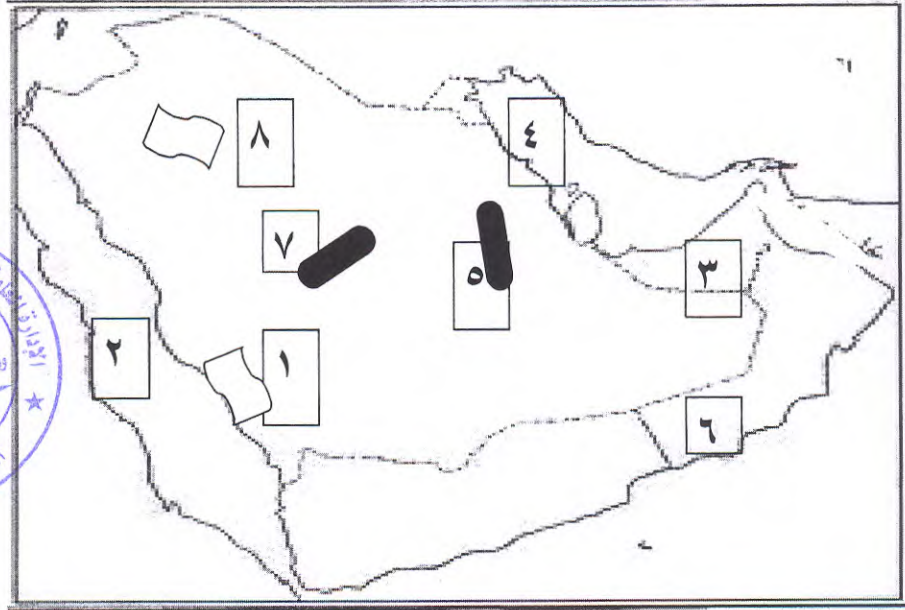
(ج) اوجد حلا للمعادلة التالية :- ص ١٤٦





السؤال الثالث مكون من ( أ - ب ) : ( لكل نقطة درجة )

( أ ) لاحظ خريطة شبه الجزيرة العربية ثم استخلص مدلولات الأرقام و الرموز عليها :



- مسطح الخليج العربي يمثل الرقم ( ٤ ) ص ٠٩١
- سهل تهامة  مثله على الخريطة الرقم ( ١ ) ص ٩٢
- منطقة صلالة الزراعية يمثلها على الخريطة الرقم ( ٦ ) ص ٩٢
- حقل الغوار النفطي  مثله على الخريطة الرقم ( ٥ ) ص ٠٩١
- الدولة التي هاجر إليها بني ياس يمثلها على الخريطة الرقم ( ٣ ) ص ٠١٠٨

( ب ) صنف مايلي في الجداول التالية ( ( أم النار - تاروت - هيلي ) ص ١٠٥ )

الدولة	السعودية	الإمارات	قطر
الحضارة	تاروت	هيلي	ام النار

( ج ) اختر البديل الصحيح من بين البدائل التي تلي كل عبارة وضع خط تحتها :-

- ١- المحصول الزراعي الذي انتجته المملكة العربية السعودية يسمى : ص ٩٢  
أ- الذرة      ب- القمح      ج- الارز      د- الشعير
- ٢- الدولة العربية الخليجية التي يوجد فيها منطقة الشعبية الصناعية تسمى ص ٩٦  
أ- الكويت      ب- قطر      ج- عمان      د- البحرين
- ٣- العام الميلادي الذي بدأ فيه البحث والتنقيب عن النفط في دولة الكويت : ص ٨٧  
أ- ١٩٣٠م      ب- ١٩٣١م      ج- ١٩٣٣م      د- ١٩٣٤م
- ٤- البعثة الاجنبية التي اكتشفت الاثار في منطقة الخليج العربي تسمى : ص ١٠٥  
أ- الصين      ب- بريطانيا      ج- الدنمارك      د- النرويج



السؤال الرابع مكون من ( أ - ب - ج ) : ( لكل نقطة درجة )

( أ ) فرق بين مفهوم ما يلي بالجدول التالي :ص ٨٨

احتياطي النفط	إنتاج النفط
كميات النفط المخزونة في باطن الأرض	كميات النفط التي يتم استخراجها للاستفادة منها

( ب ) اكتب نقطتين عما يلي :

- ١- الحلول المعالجة لمشكلة العمالة المنزلية ص ١٥٠  
(أ)-الاهتمام الجاد بالقران الكريم (ب)تحمل كل فرد في الاسره مسؤولية والقيام بدوره - جعل مهمة الخادمة مقتصرة على ممارسو دوره الأساسي في تحمل أعباء المنزل لاغير
- ٢- نتائج تلوث التربة على الإنتاج الزراعي : ص ١٣٤  
(أ)ضعف قدرتها على الإنتاج الزراعي (ب)تلوث الإنتاج الزراعي على صحة الإنسان .التربة
- ٣- التحديات التي تواجه دول الخليج العربية ص ١٣٢  
(أ)الإخطار الخارجية والداخلية (ب)-الغزو الثقافي - الأمن الغذائي - التلوث- ندرة المياه الجوفية - الاعتماد على النفط

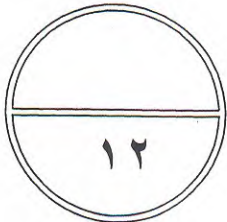
٤- مظاهر التعاون العسكري بين دول الخليج العربي ص ١٣٩

- (أ)-المناورات والتدريبات العسكرية المختلفة (ب)-إنشاء قوه مشتركة تضم جميع الدول مجلس التعاون - قبول أبناء دول مجلس التعاون في الكليات العسكرية .

(ج): برهن على صحة العبارة التالية

(( تسعى دول الخليج العربية للتقليل من المشاكل الاجتماعية و إيجاد الحلول لها ))

من خلال عقد الندوات و المؤتمرات الخليجية / دراسة المشكلات و اسبابها و وضع الخطط العلاجية /  
ومن خلال المؤسسات الاجتماعية .





السؤال الخامس مكون من ( أ - ب - ج ) : ( لكل نقطة درجة )

( أ ) : عرف المفاهيم التالية:

- ١- الكثافة السكانية : ص ١١٤ عدد السكان على مساحة الدولة
- ٢- الثقافة : ص ١١٨ مجموعة من العادات والتقاليد والقيم في مجتمع من المجتمعات .
- ٣- التلوث : ص ١٣٣ الضرر الذي يصيب عناصر البيئة الأساسية ( هواء - ماء - تربة ) فتتحول من عناصر مفيدة إلي عناصر ضاره .

( ب ) : علل مايلي :

- ١- قيام دول الخليج العربية بإقامة العديد من الموانئ النفطية ص ٩٠  
--تزايد الإنتاج النفطي - تزايد الطلب العالمي على النفط
- ٢- استقبال منطقة الخليج العربية موجات سكانية من كل المناطق ص ١٠٨  
( أ ) -الموقع الجغرافي المهم للخليج العربي --
- ٣- تشابه الآثار الحضارية بين دول منطقة الخليج العربية ص ١٠٥  
--وجود اتصال وتقارب بين سكان منطقة الخليج العربي --
- ٤- تزايد عدد السكان في دولة الكويت ودول الخليج العربية ص ١١٠  
( أ ) -الزيادة الطبيعية (ب) -الزيادة غير الطبيعية ( الهجرة )

( ج ) : اقرأ الفقرة التالية ثم أجب عما يليها من الأسئلة: ص ١٣٩

( لم يقتصر العدوان العراقي على البلاد عسكريا ، بل امتد تأثيره التدميري على البيئة الكويتية البرية و البحرية و الهوائية ، فقد لجأ إلى تفجير و إحراق معظم الآبار النفطية الكويتية ، كما لجأ إلى ضخ النفط متعمداً في مياه البحر وقد أحدثت هذه البحيرات تلوثاً للتربة وتدميراً للحياة الفطرية )

١- ما الآثار الناتجة من الغزو العراقي الغاشم على التربة ؟

تكوين بحيرات نفطية بعد ضخ كميات كبيرة من النفط على التربة / تدمير الحياة الفطرية للتربة / تساقط الرذاذ النفطي على التربة حول لونها من اللون الأصفر إلى اللون الأسود .

( ١ ) ما الآثار الناتجة من ضخ النفط في مياه البحر ؟

( أ ) -تلوث التربة --- ( ب ) -تدمير الحياة الفطرية



انتهت الأسئلة----- مع تمنياتنا لكم بالنجاح والتوفيق